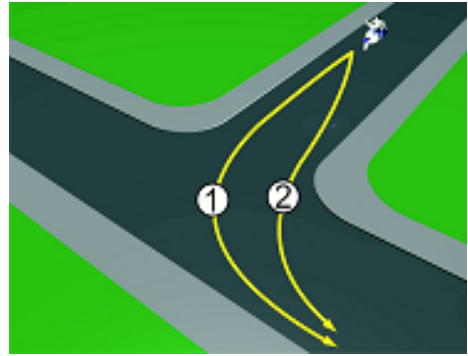


1 U saobraćajnoj situaciji kao na slici kojom putanjom vozač motocikla mora izvršiti radnju skretanja ulijevo?

- putanjom broj 2;
- putanjom broj 1.



2 Koji je redoslijed prolaska vozila na raskrsnici u situaciji kao na slici?

- 2 – 3 – 1;
- 2 – 1 – 3;
- 1 – 3 – 2.



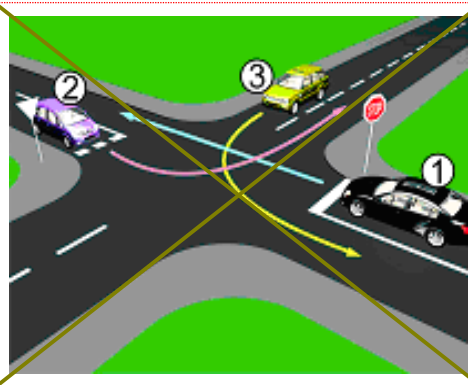
3 Koji je redoslijed prolaska vozila na raskrsnici u situaciji kao na slici?

- 1 – 2;
- 2 – 1.



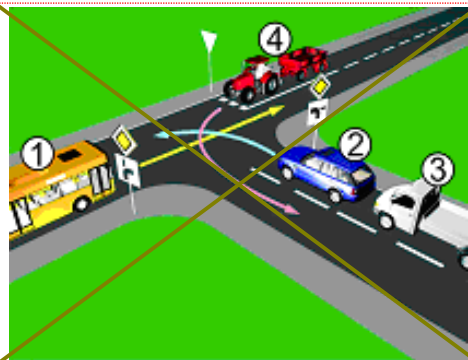
4 Kako u saobraćajnoj situaciji kao na slici mora postupiti vozač vozila broj 1:

- propustiti vozilo broj 3, a zatim proći prije vozila broj 2;
- 2
- propustiti vozilo broj 3, zatim propustiti vozilo broj 2 i zadnji proći kroz raskrsnicu.



5 Koji je redoslijed prolaska vozila na raskrsnici u situaciji kao na slici?

- 2 – 3 – 4 – 1;
- 2 – 3 – 1 – 4;
- 3
- 1 – 2 – 3 – 4.



6

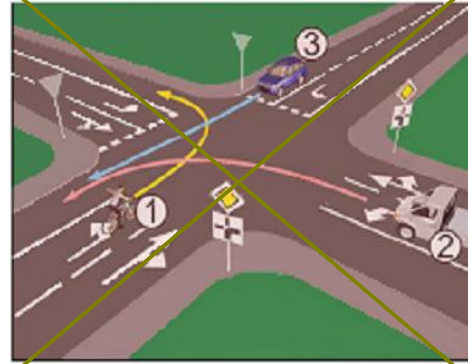
Kako u saobraćajnoj situaciji kao na slici mora postupiti vozač vozila broj 1?

1

proći kroz raskrsnicu prije vozila broj 2, a propustiti vozilo broj 3;



propustiti vozilo broj 2, a zatim proći kroz raskrsnicu prije vozila broj 3.



7

Koji je redoslijed prolaska vozila na raskrsnici u situaciji kao na slici?

1

3 - 1 - 2 - 4;

2

4 - 2 - 1 - 3;



3 - 4 - 2 - 1.



8

Koji je redoslijed prolaska vozila na raskrsnici u situaciji kao na slici?



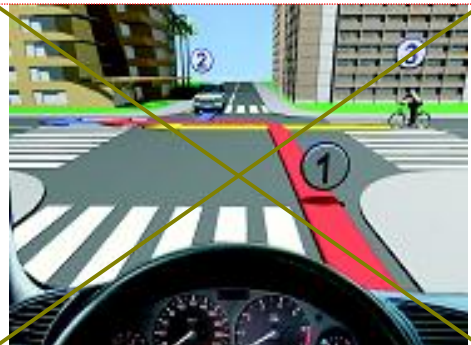
2 - 3 - 1;

2

2 - 1 - 3;

3

3 - 1 - 2.



9

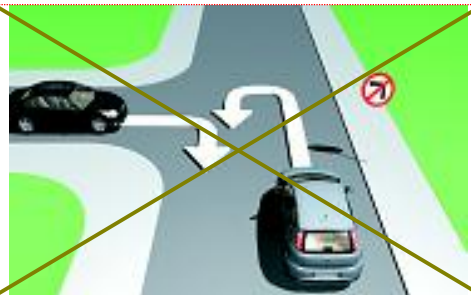
Da li je u saobraćajnoj situaciji kao na slici dozvoljeno izvršiti radnju polukružnog okretanja vozilom?



da;

2

ne.



10

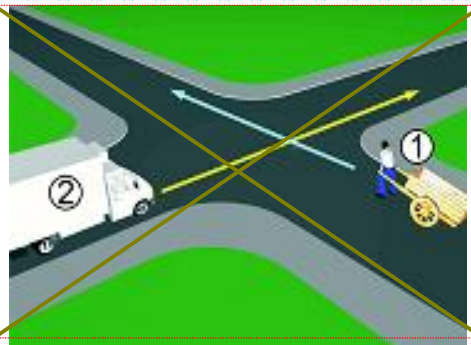
U saobraćajnoj situaciji kao na slici, koji učesnik u saobraćaju mora sačekati i propustiti drugog učesnika?

1

broj 2;

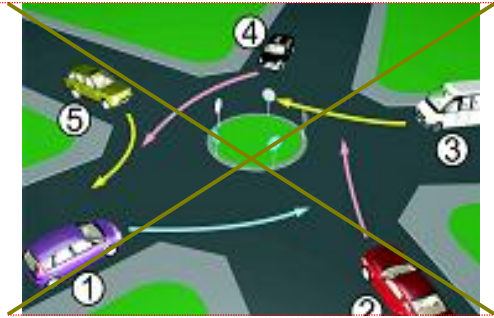


broj 1.



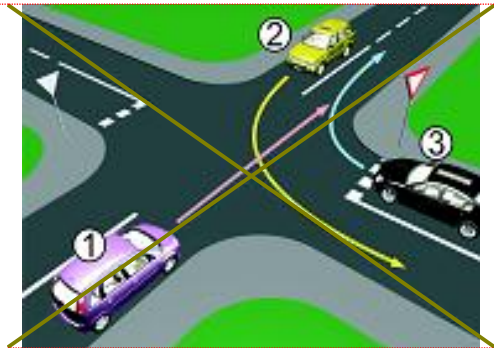
11 Koji je redoslijed prolaska vozila na raskrsnici u situaciji kao na slici?

- 5-4-3-2-1;
 1-2-3-4-5.



12 Koji je redoslijed prolaska vozila na raskrsnici u situaciji kao na slici?

- 2-3-1;
 1-2-3;
 3-1-2.



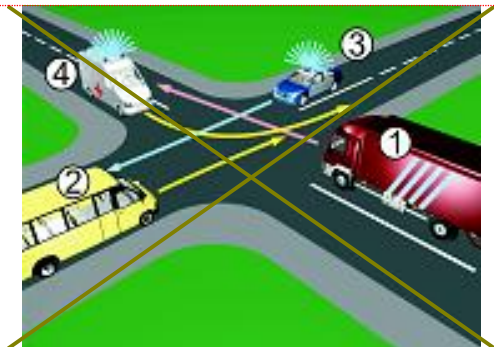
13 Kojim vozilima u saobraćajnoj situaciji kao na slici nije dozvoljen prolaz na raskrsnici?

- vozilo broj 1 i broj 3;
 vozilo broj 4 i broj 2.



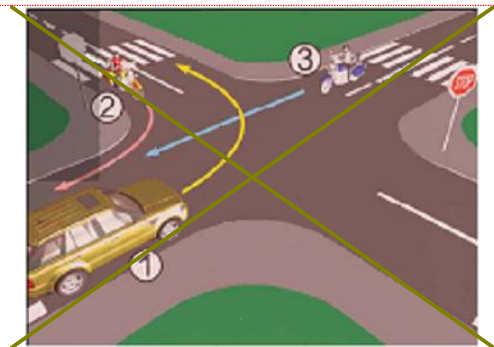
14 Koji je redoslijed prolaska vozila na raskrsnici u situaciji kao na slici?

- 4-3-1-2;
 3-4-1-2;
 4-3-1-2.



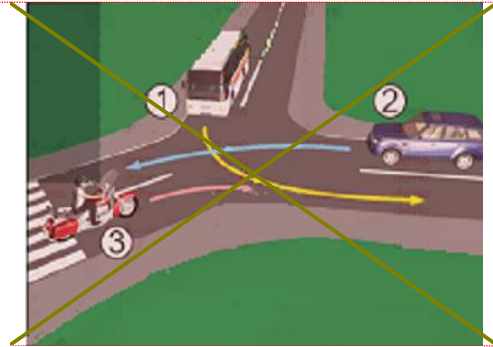
15 Koji je redoslijed prolaska vozila na raskrsnici u situaciji kao na slici?

- 1-2-3;
 2-3-1;
 3-1-2.



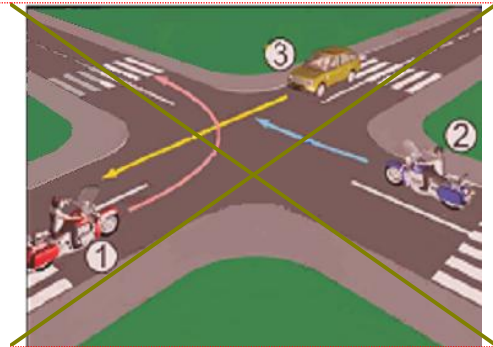
16 Koji je redoslijed prolaska vozila na raskrsnici u situaciji kao na slici?

- 1 2 – 3 – 1;
- 2 3 – 1 – 2;
- 3 1 – 3 – 2.



17 Koji je redoslijed prolaska vozila na raskrsnici u situaciji kao na slici?

- 1 1 – 2 – 3;
- 2 3 – 2 – 1;
- 3 2 – 1 – 3.



18 Koji je redoslijed prolaska vozila na raskrsnici u situaciji kao na slici?

- 1 1 – 3 – 2;
- 2 2 – 3 – 1;
- 3 2 – 1 – 3.



19 Koji je redoslijed prolaska vozila na raskrsnici u situaciji kao na slici?

- 1 1 – 3 – 2 – 4;
- 2 3 – 2 – 1 – 4;
- 3 3 – 1 – 2 – 4;
- 4 1 – 4 – 2 – 3.



20 Kako u saobraćajnoj situaciji kao na slici mora postupiti vozač vozila broj 2?

- 1 zaustaviti se i propustiti vozilo broj 1;
- 2 proći prije vozila broj 1.

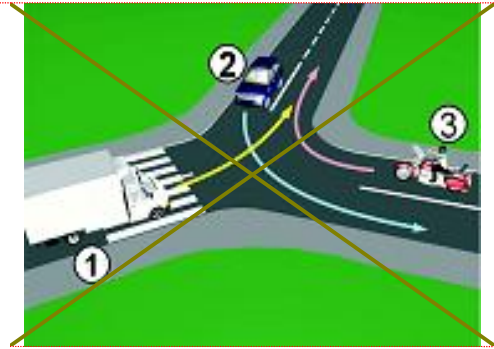


21 Koji je redoslijed prolaska vozila na raskrsnici u situaciji kao na slici?

1 2 – 1 – 3;

2 3 – 1 – 2;

3 1 – 2 – 3.



22 Koji je redoslijed prolaska vozila na raskrsnici u situaciji kao na slici?

1 1 – 2 – 3;

2 1 – 3 – 2;

3 3 – 1 – 2.



23 Koji je redoslijed prolaska vozila na raskrsnici u situaciji kao na slici?

1 2 – 1 – 3;

2 1 – 3 – 2;

3 3 – 2 – 1.

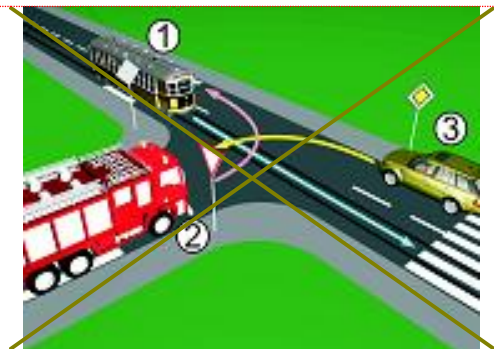


24 Koji je redoslijed prolaska vozila na raskrsnici u situaciji kao na slici?

1 3 – 2 – 1;

2 1 – 2 – 3;

3 1 – 3 – 2.

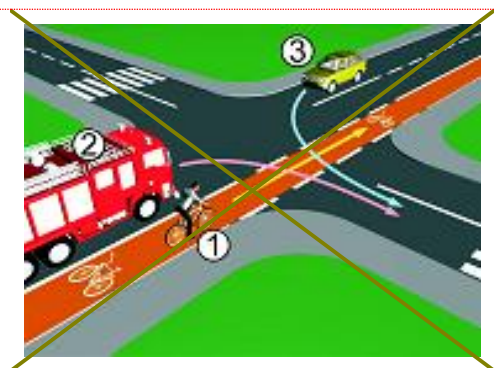


25 Koji je redoslijed prolaska vozila na raskrsnici u situaciji kao na slici?

1 1 – 2 – 3;

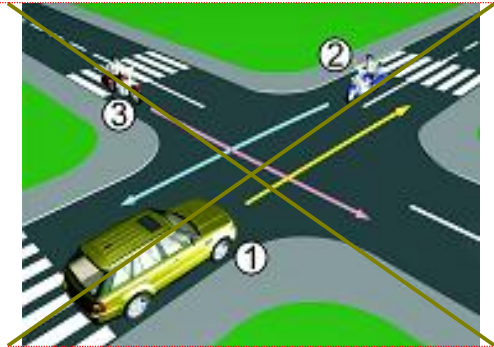
2 2 – 1 – 3;

3 3 – 1 – 2.



26 Koji je redosljed prolaska vozila na raskrsnici u situaciji kao na slici?

- 1 2 – 1 – 3;
- 2 3 – 2 – 1;
- 3 1 – 3 – 2.



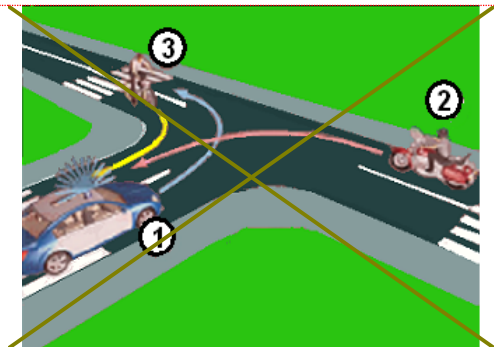
27 Koji je redosljed prolaska vozila na raskrsnici u situaciji kao na slici?

- 1 1 – 2 – 3;
- 2 2 – 1 – 3;
- 3 3 – 1 – 2.



28 Koji je redosljed prolaska vozila na raskrsnici u situaciji kao na slici?

- 1 3 – 2 – 1;
- 2 2 – 1 – 3;
- 3 1 – 3 – 2.



29 Kako u saobraćajnoj situaciji kao na slici mora postupiti vozač vozila broj 2?

- 1 propustiti vozilo broj 1;
- 2 proći prije vozila broj 1.



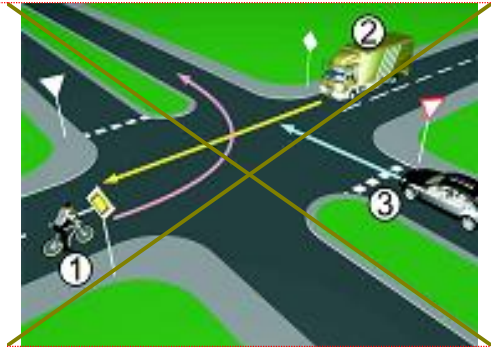
30 Kako u saobraćajnoj situaciji kao na slici mora postupiti vozač vozila broj 2?

- 1 proći prije vozila broj 1;
- 2 propustiti vozilo broj 1.



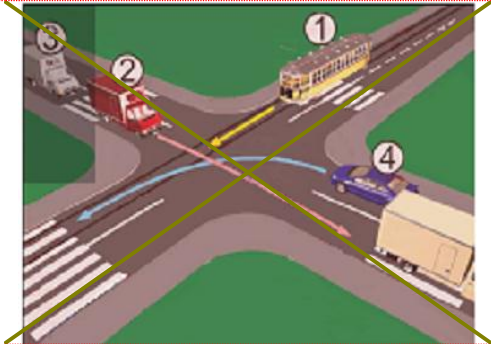
31 Koji je redoslijed prolaska vozila na raskrsnici u situaciji kao na slici?

- 2 – 1 – 3;
- 3 – 1 – 2;
- 3 – 2 – 1.



32 Koji je redoslijed prolaska vozila na raskrsnici u situaciji kao na slici?:

- 1 – 2 – 3 – 4;
- 4 – 1 – 2 – 3;
- 2 – 3 – 4 – 1.



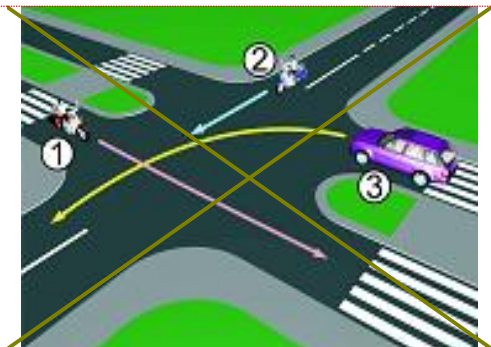
33 Koji je redoslijed prolaska vozila na raskrsnici u situaciji kao na slici?

- 3 – 1 – 2;
- 2 – 1 – 3;
- 1 – 2 – 3.



34 Koji je redoslijed prolaska vozila na raskrsnici u situaciji kao na slici?

- 3 – 2 – 1;
- 1 – 2 – 3;
- 2 – 1 – 3.



35 Koji je redoslijed prolaska vozila na raskrsnici u situaciji kao na slici?

- 1 – 3 – 2;
- 2 – 3 – 1;
- 3 – 2 – 1.



36 Koji je redoslijed prolaska vozila na raskrsnici u situaciji kao na slici?

- 1 2 – 3 – 1;
- 2 3 – 2 – 1;
- 3 3 – 1 – 2.



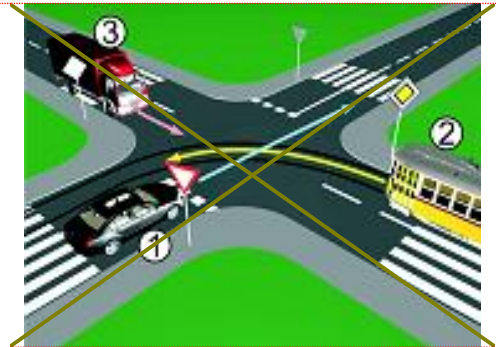
37 Koji je redoslijed prolaska vozila na raskrsnici u situaciji kao na slici?

- 1 3 – 2 – 1;
- 2 1 – 2 – 3;
- 3 2 – 1 – 3.



38 Koji je redoslijed prolaska vozila na raskrsnici u situaciji kao na slici?

- 1 3 – 2 – 1;
- 2 2 – 3 – 1;
- 3 1 – 2 – 3.



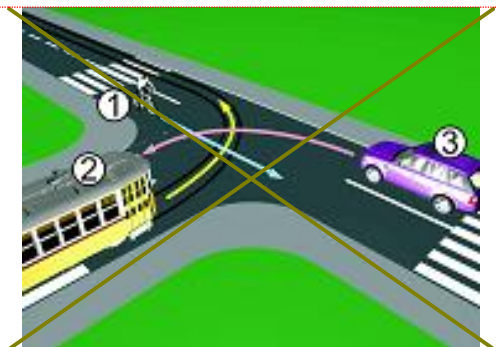
39 Koji je redoslijed prolaska vozila na raskrsnici u situaciji kao na slici?

- 1 2 – 3 – 1;
- 2 1 – 3 – 2;
- 3 1 – 2 – 3.



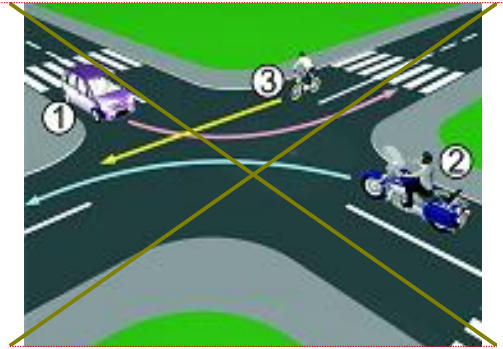
40 Koji je redoslijed prolaska vozila na raskrsnici u situaciji kao na slici?

- 1 3 – 2 – 1;
- 2 2 – 1 – 3;
- 3 1 – 2 – 3.



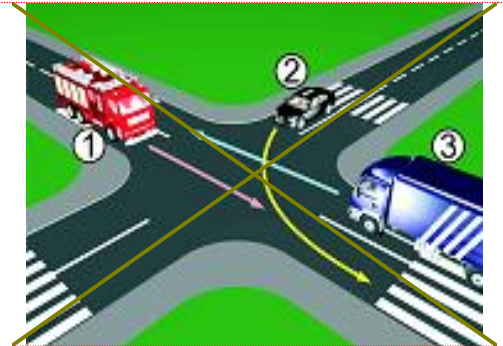
41 Koji je redoslijed prolaska vozila na raskrsnici u situaciji kao na slici?

- 1 2 – 3 – 1;
- 2 1 – 3 – 2;
- 3 2 – 1 – 3.



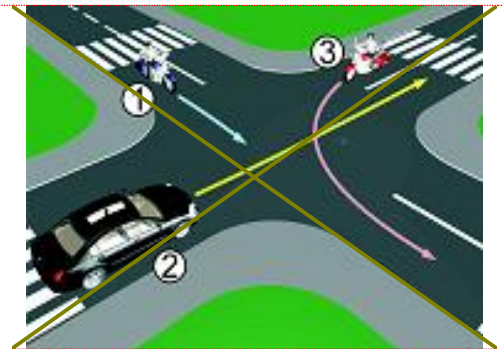
42 Koji je redoslijed prolaska vozila na raskrsnici u situaciji kao na slici?

- 1 3 – 2 – 1;
- 2 3 – 1 – 2;
- 3 1 – 2 – 3.



43 Koji je redoslijed prolaska vozila na raskrsnici u situaciji kao na slici?

- 1 1 – 2 – 3;
- 2 3 – 1 – 2;
- 3 2 – 1 – 3.



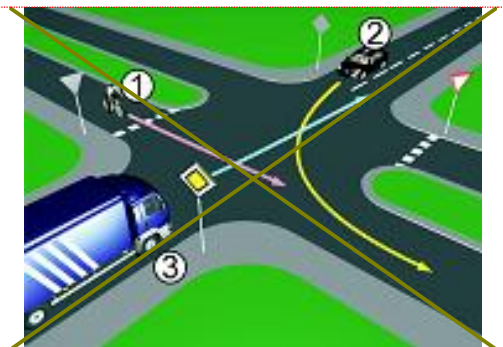
44 Koji je redoslijed prolaska vozila na raskrsnici u situaciji kao na slici?

- 1 3 – 2 – 1;
- 2 2 – 1 – 3;
- 3 1 – 2 – 3.



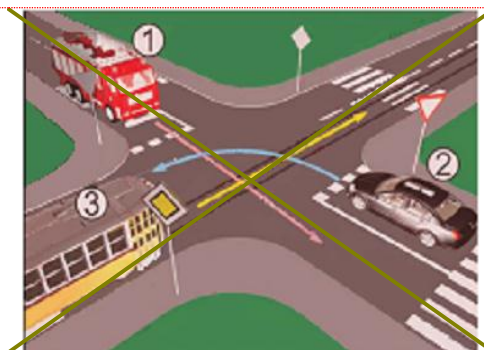
45 Koji je redoslijed prolaska vozila na raskrsnici u situaciji kao na slici?

- 1 3 – 2 – 1;
- 2 2 – 1 – 3;
- 3 1 – 3 – 2.



46 Koji je redoslijed prolaska vozila na raskrsnici u situaciji kao na slici?

- 3 – 1 – 2;
- 2 – 1 – 3;
- 1 – 3 – 2.



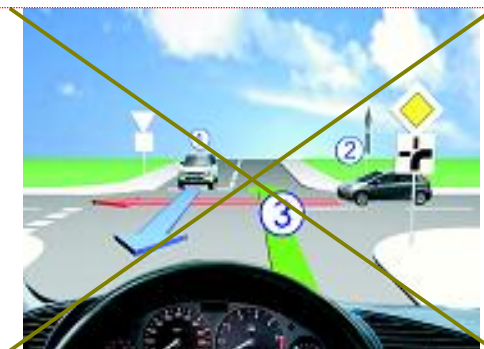
47 Koji je redoslijed prolaska vozila na raskrsnici u situaciji kao na slici?

- 2 – 1 – 3;
- 3 – 2 – 1;
- 1 – 3 – 2.



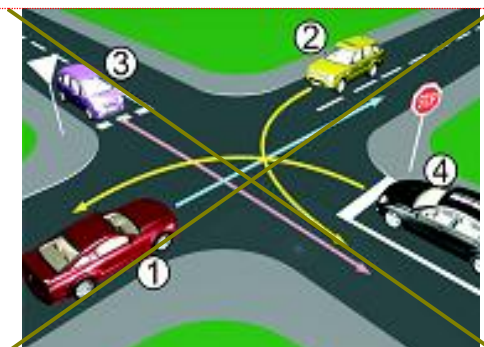
48 Koji je redoslijed prolaska vozila na raskrsnici u situaciji kao na slici?

- 1 – 2 – 3;
- 2 – 3 – 1;
- 3 – 2 – 1.



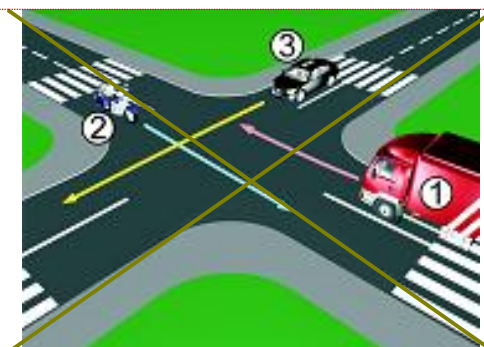
49 Koji je redoslijed prolaska vozila na raskrsnici u situaciji kao na slici?

- 2 – 1 – 3 – 4;
- 1 – 2 – 3 – 4;
- 1 – 2 – 4 – 3.



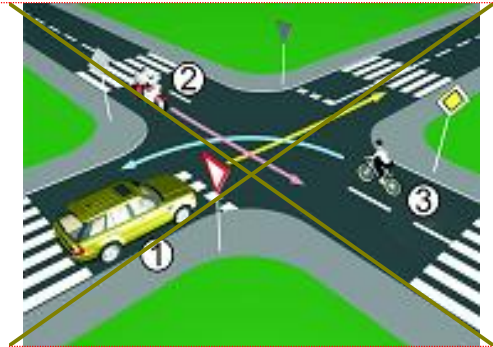
50 Koji je redoslijed prolaska vozila na raskrsnici u situaciji kao na slici?

- 1 – 3 – 2;
- 3 – 2 – 1;
- 2 – 3 – 1.



51 Koji je redoslijed prolaska vozila na raskrsnici u situaciji kao na slici?

- 2 – 3 – 1;
- 2 – 1 – 3;
- 3 – 1 – 2.



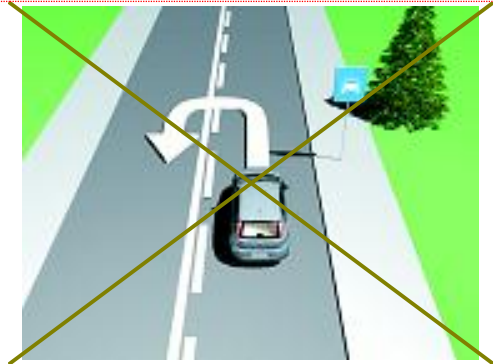
52 Koji je redoslijed prolaska učesnika u saobraćaju na raskrsnici u situaciji kao na slici?

- 1-3-2;
- 3, pa 2 i 1 istovremeno;
- 2 i 1 istovremeno, pa 3.



53 Da li je u saobraćajnoj situaciji kao na slici dozvoljeno izvršiti radnju polukružnog okretanja vozilom kojim upravljate?

- da;
- ne.



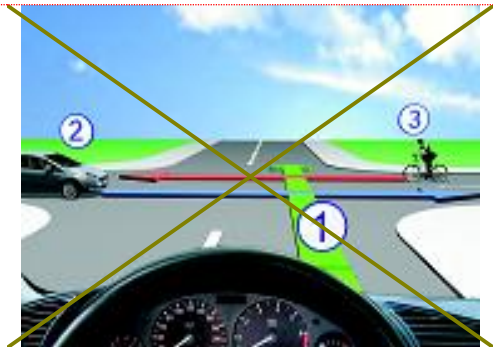
54 Koji je redoslijed prolaska vozila na raskrsnici u situaciji kao na slici?

- 1 – 3 – 2;
- 1 – 2 – 3;
- 3 – 1 – 2.



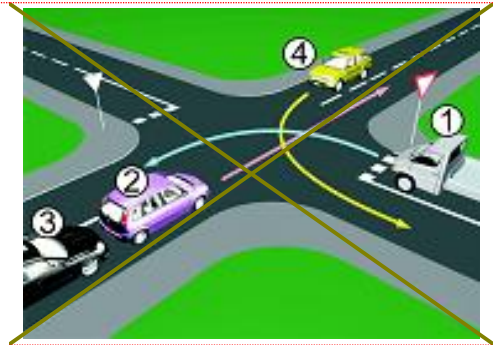
55 Koji je redoslijed prolaska vozila na raskrsnici u situaciji kao na slici?

- 1 – 3 – 2;
- 3 – 1 – 2;
- 2 – 3 – 1.



56 Koji je redoslijed prolaska vozila na raskrsnici u situaciji kao na slici?

- 1 4 – 1 – 2 – 3;
- 2 2 – 3 – 4 – 1;
- 3 2 – 3 – 1 – 4.



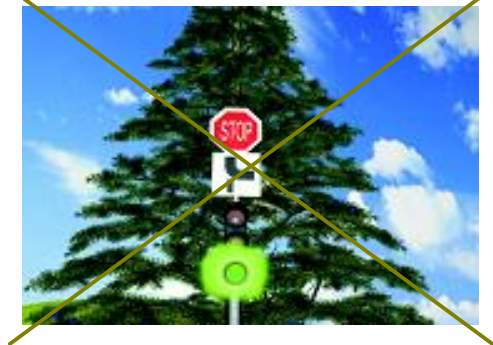
57 Koji je redoslijed prolaska vozila na raskrsnici u situaciji kao na slici?

- 1 3 – 2 – 1;
- 2 3 – 1 – 2;
- 3 2 – 3 – 1.



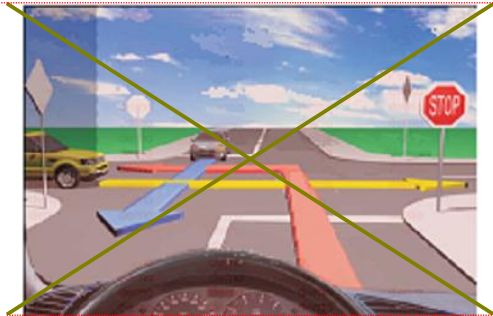
58 Kako ćete postupiti na raskrsnici na kojoj je saobraćaj regulisan svjetlosnom saobraćajnom signalizacijom kao na slici?

- 1 obavezno zaustaviti vozilo jer se uključujem sa sporednog puta;
- 2 obavezno zaustaviti vozilo zbog znaka „STOP“;
- 3 nastaviti kretanje vozilom.



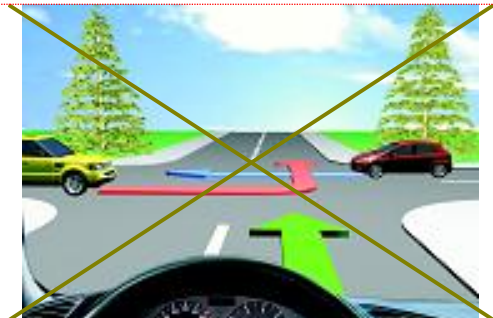
59 Kako ćete postupiti na raskrsnici u saobraćajnoj situaciji kao na slici?

- 1 nastaviti kretanje vozilom jer nema niko sa desne strane;
- 2 proći drugi jer sam žutom vozilu sa desne strane;
- 3 zaustaviti se i propustiti oba vozila;



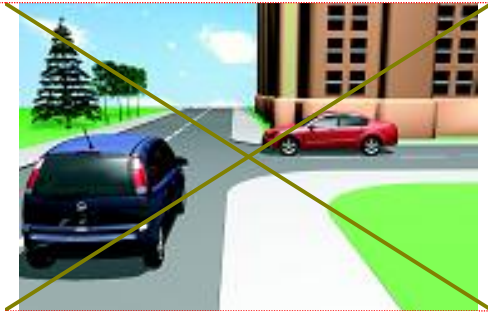
60 Kako ćete postupiti na raskrsnici u saobraćajnoj situaciji kao na slici? (više tačnih odgovora)

- 1 proći prvi kroz raskrsnicu;
- 2 propustiti crveno vozilo;
- 3 zaustaviti se i propustiti oba vozila;
- 4 proći kroz raskrsnicu prije žutog vozila.



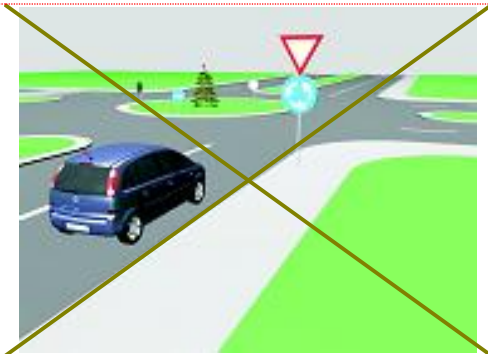
61 Kako ćete postupiti u saobraćajnoj situaciji kao na slici ako upravljate plavim automobilom?

- 1 proći prvi jer sam sa desne strane;
- 2 proći prvi jer skrećem udesno;
- 3 zaustaviti se i propustiti crveno vozilo.



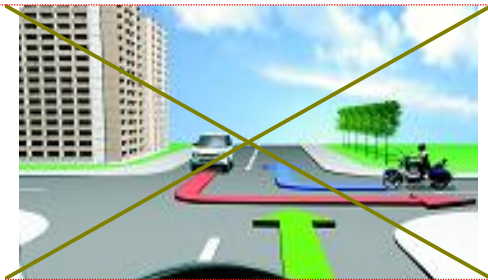
62 Kako ćete postupiti u saobraćajnoj situaciji kao na slici ako imate namjeru proći raskrsnicu?

- 1 obavezno se zaustaviti, bez obzira ima li vozila sa lijeve strane u raskrsnici;
- 2 nastaviti kretanje bez zaustavljanja jer me vozači vozila u raskrsnici moraju propustiti;
- 3 zaustaviti se po potrebi, radi propuštanja vozila koja su već u raskrsnici, a potom proći kroz raskrsnicu.



63 Kako ćete postupiti u saobraćajnoj situaciji kao na slici prilikom dolaska na raskrsnicu? (više tačnih odgovora)

- 1 nastaviti kretanje jer ne mijenjam smjer kretanja vozila;
- 2 propustiti motocikl;
- 3 proći prije vozila koje dolazi iz suprotnog smjera.



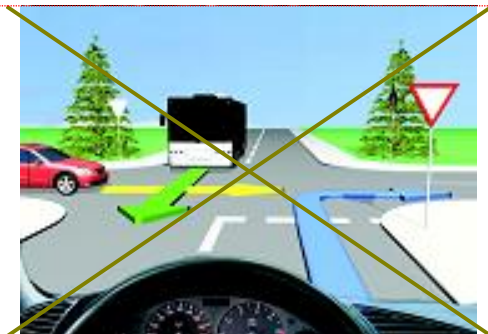
64 Kako trebate postupiti u saobraćajnoj situaciji kao na slici prilikom dolaska na raskrsnicu?

- 1 proći prvi kroz raskrsnicu;
- 2 proći drugi kroz raskrsnicu, nakon propuštanja bijelog vozila;
- 3 proći posljednji kroz raskrsnicu.



65 Kako trebate postupiti u saobraćajnoj situaciji kao na slici prilikom dolaska na raskrsnicu?

- 1 zaustaviti se i propustiti oba vozila;
- 2 proći prvi kroz raskrsnicu jer sam cvenom vozilu sa desne strane;
- 3 propustiti crveno vozilo, a zatim proći kroz raskrsnicu istovremeno sa autobusom.



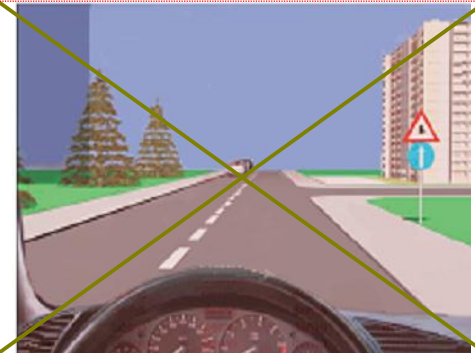
66 Kako trebate postupiti u saobraćajnoj situaciji kao na slici? (više tačnih odgovora)

- 1 obavezno se zaustaviti;
- 2 nastaviti kretanje vozilom ulijevo, nakon propuštanja vozila koja dolaze sa desne strane;
- 3 nakon što se na semaforu upali zeleno svjetlo, nastaviti kretanje vozilom ulijevo;
- 4 nakon što se na semaforu upali zeleno svjetlo, nastaviti kretanje udesno.



67 Kako ćete postupiti u saobraćajnoj situaciji kao na slici? (više tačnih odgovora)

- 1 povećati pažnju zbog nailaska na ukrštanje odnosno spajanje puta sa prednošću prolaska sa sporednim putem;
- 2 obavezno nastaviti kretanje vozilom pravo;
- 3 skrenuti udesno na sporedni put ili nastaviti kretanje vozilom pravo.



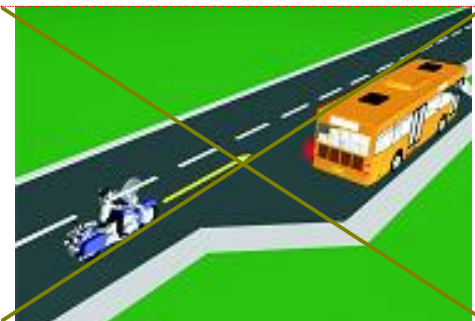
68 Kako ćete postupiti u saobraćajnoj situaciji kao na slici?

- 1 obratiti pažnju na moguću djecu na putu ili u blizini puta, a brzinu kretanja vozila prilagoditi trenutnim uslovima saobraćaja, s tim da brzina ne smije biti veća od brzine određene saobraćajnim znakom;
- 2 obratiti pažnju samo ako se djeca nalaze na putu, a brzinu prilagoditi trenutnim uslovima saobraćaja.



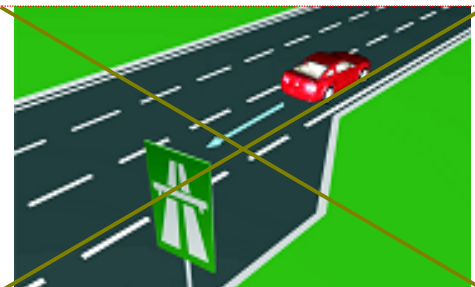
69 Kako treba postupiti vozač motocikla u saobraćajnoj situaciji kao na slici, ako je na vozilu javnog gradskog prevoza putnika uključen lijevi pokazivač smjera?

- 1 nije dužan omogućiti autobusu uključivanje u saobraćaj;
- 2 dužan je omogućiti autobusu uključivanje u saobraćaj;
- 3 nije dužan omogućiti autobusu uključivanje u saobraćaj jer se autobus nalazi na sporednom putu.



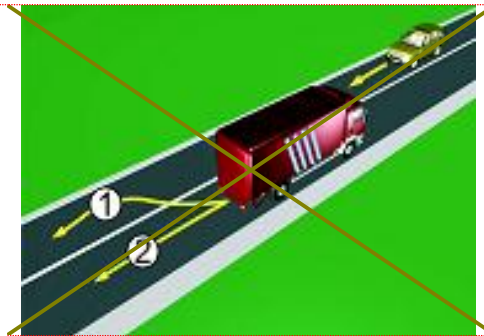
70 U saobraćajnoj situaciji kao na slici vozač putničkog automobila:

- 1 ne smije da izvrši radnju kretanja vozilom unazad, jer čini prekršaj;
- 2 smije izvršiti radnju kretanja vozilom unazad, jer se nalazi neposredno uz mjesto za zaustavljanje vozila.



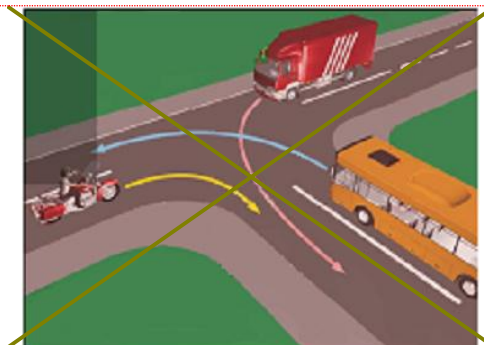
71 U saobraćajnoj situaciji kao na slici, vozač kamiona prilikom vršenja radnje kretanja vozilom unazad mora da se kreće:

- 1 linijama broj 1 i broj 2;
- 2 linijom broj 2;
- 3 linijom broj 1.



72 Koji je redoslijed prolaska vozila na raskrsnici u situaciji kao na slici?

- 1 autobus, kamion, motocikl;
- 2 motocikl, autobus, kamion;
- 3 motocikl i kamion istovremeno, pa autobus;
- 4 motocikl, kamion, autobus.



73 Koji je redoslijed prolaska vozila na raskrsnici u situaciji kao na slici?

- 1 tramvaj, motocikl, putnički automobil;
- 2 tramvaj, a zatim istovremeno putnički automobil i motocikl;
- 3 motocikl, putnički automobil, tramvaj;
- 4 motocikl, tramvaj, putnički automobil.



74 Koje vozilo će u saobraćajnoj situaciji kao na slici posljednje proći kroz raskrsnicu?

- 1 motocikl;
- 2 policijsko vozilo koje drugom policijskom vozilu dolazi sa desne strane;
- 3 policijsko vozilo koje se nalazi na putu sa prvenstvom prolaza.



75 Kojoj vrsti saobraćajnih znakova pripada postavljeni saobraćajni znak na slici?

- 1 znakovima opasnosti;
- 2 znakovima obavještenja;
- 3 znakovima izričitih naredbi.



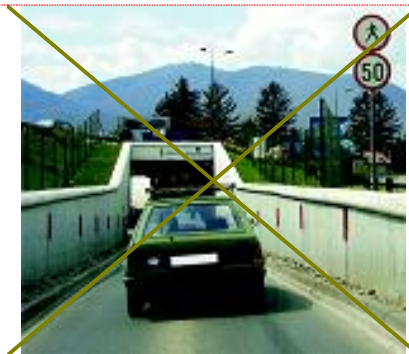
76 Kako treba postupiti u saobraćajnoj situaciji kao na slici?

- 1 obavezno se zaustaviti pa nastaviti kretanje vozilom ulijevo ili udesno;
- 2 nastaviti kretanje vozilom nakon propuštanja vozila koja dolaze samo sa desne strane;
- nastaviti kretanje vozilom ulijevo ili udesno nakon propuštanja svih vozila koja se kreću putem na koji se uključujem.



77 Kako treba postupiti u saobraćajnoj situaciji kao na slici ako vozilom prolazite pored dva postavljena saobraćajna znaka?

- prilagoditi brzinu kretanja vozila tako da ona ne prelazi 50 km/h;
- 2 obratiti pažnju na pješake, jer saobraćajni znak ukazuje na blizinu pješačkog prelaza;
- 3 nastaviti kretanje vozilom uz prethodno propuštanje pješaka.



78 Kako ćete postupiti u saobraćajnoj situaciji kao na slici ako kretanje vozilom nastavljate pravo, na raskrsnici puteva iste važnosti na kojoj uređaji za davanje svjetlosnih saobraćajnih znakova nisu u funkciji? (više tačnih odgovora)

- pažljivo proći vozilom kroz raskrnicu;
- 2 propustiti vozila koja dolaze i sa lijeve i sa desne strane;
- propustiti vozila koja dolaze sa desne strane;
- 4 propustiti vozila iz suprotnog smjera koja namjeravaju skrenuti ulijevo.



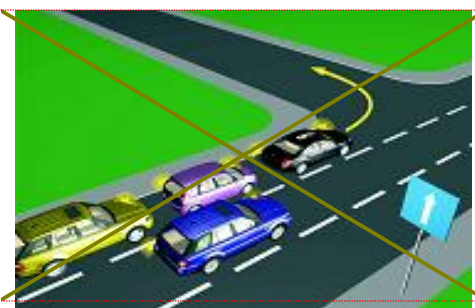
79 U saobraćajnoj situaciji kao na slici učesnici u saobraćaju će proći kroz raskrnicu sljedećim redoslijedom:

- 1 oba bicikla, crveni automobil, zeleni automobil;
- 2 zeleni automobil, crveni automobil, pa bicikli;
- oba bicikla, zeleni automobil, crveni automobil.



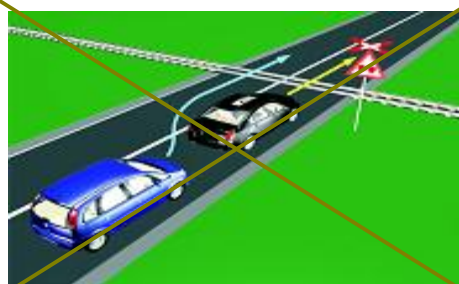
80 U saobraćajnoj situaciji kao na slici vozač vozila koje se nalazi u srednjoj saobraćajnoj traci: (više tačnih odgovora)

- mora nastaviti kretanje vozilom pravo, jer nije pravovremeno izvršio radnju prestrojavanja;
- ne smije izvršiti radnju skretanja ulijevo, jer čini prekršaj;
- 3 sačekaće sva vozila da skrenu ulijevo, a potom izvršiti radnju skretanja ulijevo.




81 U saobraćajnoj situaciji kao na slici, plavi putnički automobil:

- 1 ne čini prekršaj jer je prelaz preko pruge regulisan svjetlosnim saobraćajnim znakovima;
- 2 čini prekršaj.



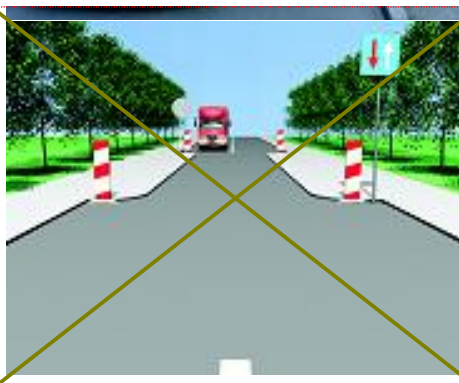
82 Kako ćete postupiti u saobraćajnoj situaciji kao na slici ukoliko automobilom skrećete udesno?

- 1 propustiću biciklistu, a zatim vršim radnju skretanja udesno;
- 2 vozim istovremeno sa biciklistom.



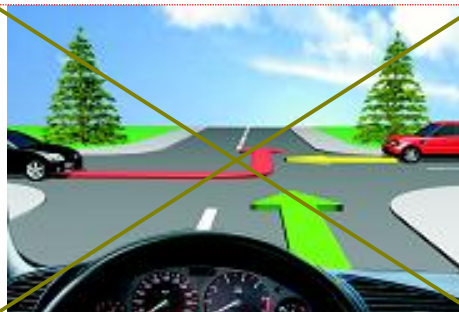
83 Kako treba postupiti u saobraćajnoj situaciji kao na slici? (više tačnih odgovora)

- 1 povećati brzinu kretanja vozila;
- 2 obratiti pažnju na postupke vozača vozila iz suprotnog smjera;
- 3 povećati pažnju i prije vozila iz suprotnog smjera proći dionicu na kojoj je suženje puta.



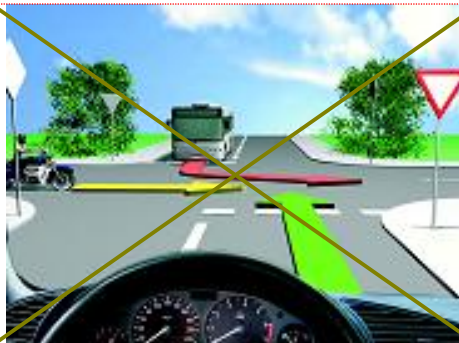
84 Kako ćete postupiti u saobraćajnoj situaciji kao na slici? (više tačnih odgovora)

- 1 propustiti crveni automobil;
- 2 proći kroz raskrnicu prije crnog automobila;
- 3 proći kroz raskrnicu prije crvenog automobila.



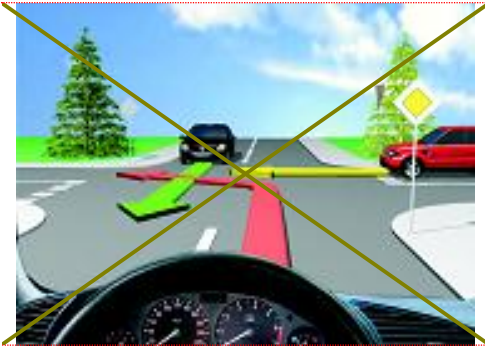
85 Kako ćete postupiti u saobraćajnoj situaciji kao na slici? (više tačnih odgovora)

- 1 propustiti autobus;
- 2 propustiti motocikl;
- 3 proći kroz raskrnicu prije autobusa.



86 Kako ćete postupiti u saobraćajnoj situaciji kao na slici?
(više tačnih odgovora)

- 1 proći prvi kroz raskrscopicu;
- 2 proći zadnji kroz raskrscopicu;
- 3 proći prije crvenog vozila kroz raskrscopicu;
- 4 propustiti vozilo koje dolazi iz suprotnog smjera.



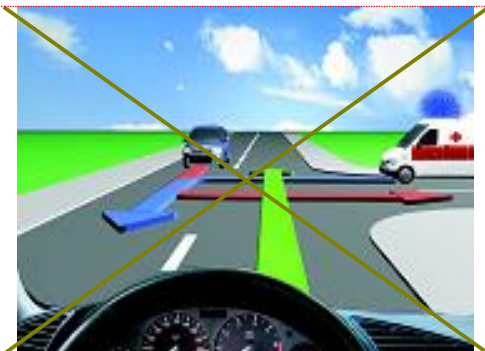
87 Koji je redoslijed prolaska vozila na raskrscopicu u situaciji kao na slici?

- 1 1 – 2 – 3;
- 2 2 – 3 – 1;
- 3 3 – 1 – 2.



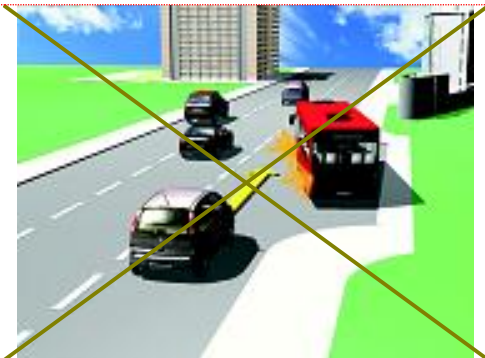
88 Kako ćete postupiti u saobraćajnoj situaciji kao na slici?

- 1 proći prvi kroz raskrscopicu jer imate prednost;
- 2 propustiti oba vozila i zadnji proći kroz raskrscopicu;
- 3 propustiti vozilo hitne pomoći koje daje svjetlosne znakove, a zatim proći kroz raskrscopicu.



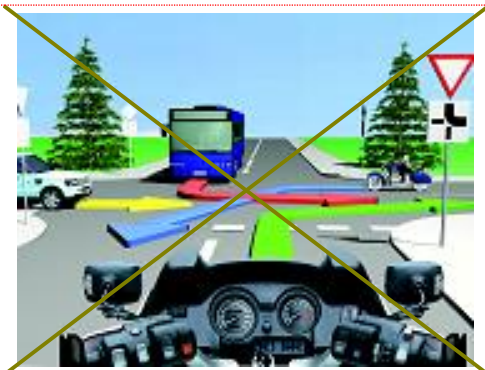
89 Kako treba postupiti vozač putničkog automobila u saobraćajnoj situaciji kao na slici ako se vozač autobusa uključuje u saobraćaj sa stajališta?

- 1 smanjuje brzinu kretanja i omogućuje uključivanje autobusa u saobraćaj;
- 2 zvučnim znakom upozorava vozača autobusa da ga propusti jer ima prvenstvo prolaza;
- 3 prolazi pored autobusa jer ima prednost.



90 Kako treba postupiti u saobraćajnoj situaciji kao na slici?
(više tačnih odgovora)

- 1 proći prvi kroz raskrscopicu;
- 2 propustiti autobus;
- 3 proći kroz raskrscopicu prije vozila sa lijeve strane;
- 4 proći kroz raskrscopicu prije autobusa, jer vrši radnju skretanja ulijevo.



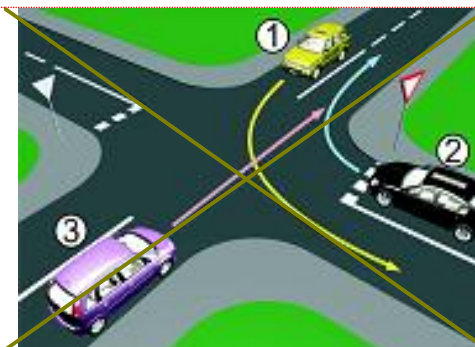
91 Kako ćete postupiti u saobraćajnoj situaciji kao na slici ako na raskrsnici skrećete ulijevo dok je na semaforu upaljeno zeleno svjetlo?

- 1 zaustaviti se prije raskrsnice;
- 2 propustiti tramvaj koji dolazi iz suprotnog smjera.



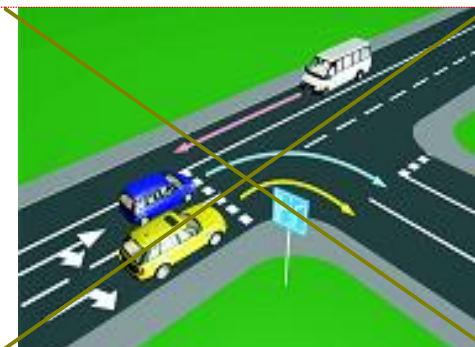
92 Koji je redosljed prolaska vozila na raskrsnici u situaciji kao na slici?

- 1 1 – 2 – 3;
- 2 3 – 1 – 2;
- 3 2 – 1 – 3.



93 U saobraćajnoj situaciji kao na slici pravilno skretanje udesno vrši:

- 1 samo žuto vozilo;
- 2 samo plavo vozilo;
- 3 nijedno vozilo;
- 4 oba vozila.



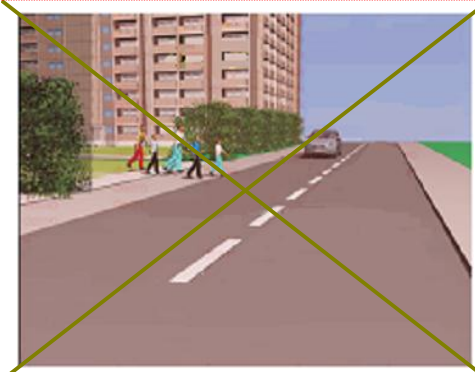
94 Koji je redosljed prolaska vozila na raskrsnici u situaciji kao na slici?

- 1 tramvaj, autobus, putnički automobil;
- 2 autobus, tramvaj, putnički automobil;
- 3 autobus, putnički automobil, tramvaj.



95 Kako ćete postupiti ako se za vrijeme upravljanja vozilom nađete u saobraćajnoj situaciji kao na slici? (više tačnih odgovora)

- 1 zaustaviti vozilo;
- 2 zvučnim znakom upozoriti pješake na opasnost;
- 3 nastaviću kretanje jer nema obilježenog pješačkog prelaza.



96 Kako ćete postupiti u saobraćajnoj situaciji kao na slici ako se vozač autobusa uključuje sa autobusnog stajalista u saobraćaj. (više tačnih odgovora)

- 1 smanjiti brzinu kretanja vozila;
- 2 povećati brzinu kretanja vozila i proći prije autobusa;
- 3 po potrebi zaustaviti vozilo i omogućiti vozaču autobusa da se bezbjedno uključi u saobraćaj;

97 Kako ćete postupiti, ako je autobus, označen kao na slici, zaustavljen na kolovozu zbog ulaska i izlaska djece? (više tačnih odgovora)

- 1 ako se krećem vozilom iza autobusa, zaustaviti se;
- 2 ako se krećem vozilom iza autobusa, nastaviti kretanje vozilom;
- 3 ako se krećem vozilom u susret autobusu, nastaviti kretanje vozilom;
- 4 ako se krećem vozilom u susret autobusu, zaustaviti se.

98 Kako trebate postupiti u saobraćajnoj situaciji kao na slici prilikom približavanja raskrsnici? (više tačnih odgovora)

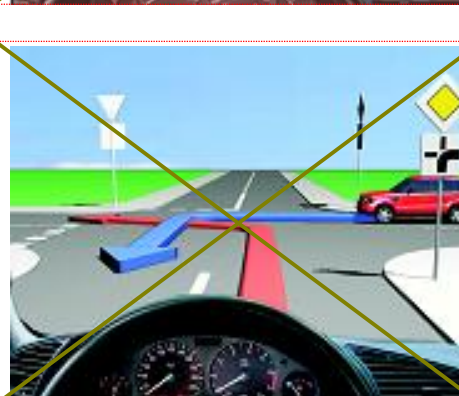
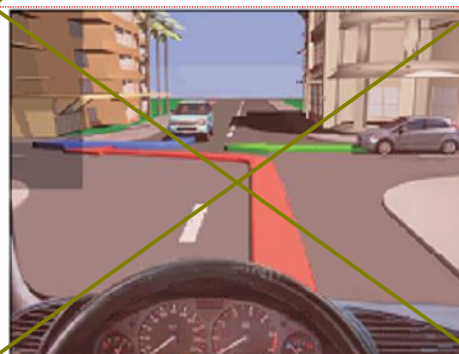
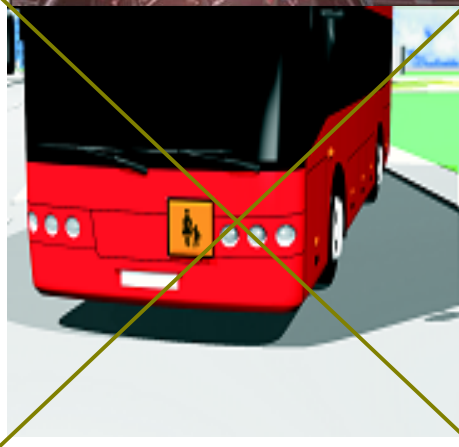
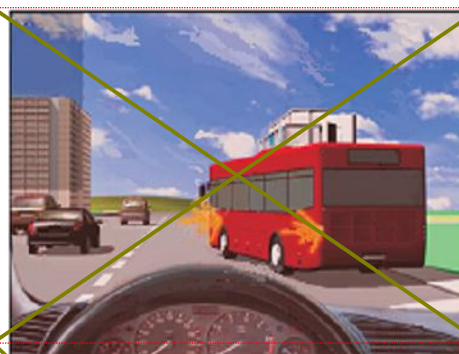
- 1 propustiti vozilo koje dolazi iz suprotnog smjera kretanja, i ima namjeru izvršiti radnju skretanja udesno;
- 2 proći prvi kroz raskrsnicu;
- 3 proći drugi kroz raskrsnicu;
- 4 propustiti vozilo koje dolazi sa desne strane.

99 Kako trebate postupiti u saobraćajnoj situaciji kao na slici? (više tačnih odgovora)

- 1 proći prvi kroz raskrsnicu jer nemate nikoga sa desne strane;
- 2 propustiti vozilo koje dolazi sa lijeve strane;
- 3 propustiti vozilo koje dolazi iz suprotnog smjera kretanja;
- 4 proći drugi kroz raskrsnicu.

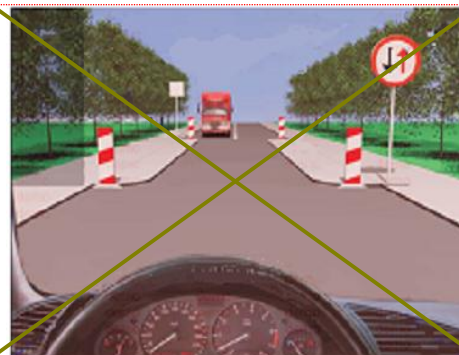
100 Kako trebate postupiti u saobraćajnoj situaciji kao na slici?

- 1 propustiti crveno vozilo;
- 2 proći kroz raskrsnicu prije crvenog vozila;
- 3 proći istovremeno sa crvenim vozilom kroz raskrsnicu.



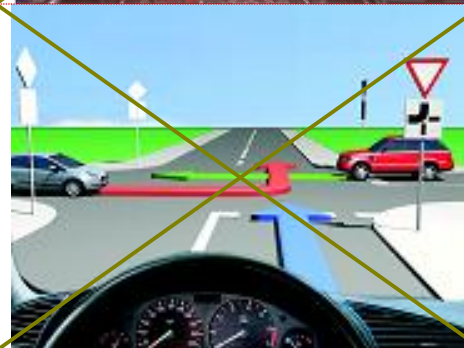
101 Kako trebate postupiti u saobraćajnoj situaciji kao na slici? (više tačnih odgovora)

- 1 povećati brzinu kretanja vozila;
- 2 obratiti pažnju na postupke vozača vozila iz suprotnog smjera;
- 3 propustiti vozilo iz suprotnog smjera, a zatim proći dionicu na kojoj je suženje puta.



102 Kako trebate postupiti u saobraćajnoj situaciji kao na slici?

- 1 proći prvi kroz raskrsnicu jer nastavljate kretanje vozilom pravo;
- 2 propustiti oba vozila;
- 3 proći drugi kroz raskrsnicu;
- 4 propustiti samo crveni automobil.



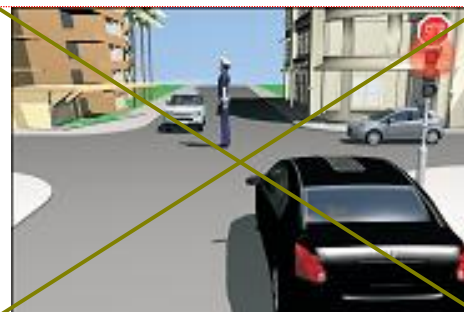
103 Kako ćete postupiti ako se krećete putem na kome se izvode radovi u saobraćajnoj situaciji kao na slici?

- 1 zaustaviti se jer se izvode radovi na saobraćajnoj traci kojom se krećem vozilom;
- 2 nastaviti kretanje vozilom jer je na semaforu upaljeno zeleno svjetlo.



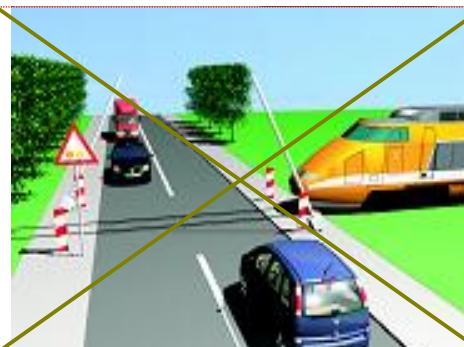
104 Kako ćete postupiti u saobraćajnoj situaciji kao na slici ukoliko upravljate crnim utomobilom?

- 1 obavezno se zaustaviti;
- 2 nastaviti kretanje vozilom uz povećani oprez;
- 3 obavezno izvršiti radnju skretanja udesno.



105 Kako ćete postupiti u saobraćajnoj situaciji kao na slici na prelazu puta preko željezničke pruge u istom nivou kada se crvena svjetla počinju naizmjenično da pale?

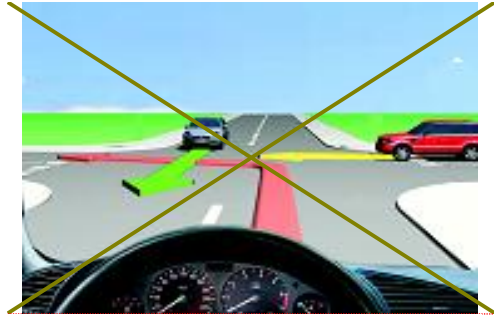
- 1 nastaviti kretanje vozilom dok se polubranik još nije spustio;
- 2 zaustaviti vozilo ispred pružnog prelaza i sačekati prolazak voza.



106

Kako ćete postupiti u saobraćajnoj situaciji kao na slici?

- 1 propustiti oba vozila;
- 2 propustiti samo crveno vozilo;
- 3 proći prvi kroz raskrsnicu.



107

Kako ćete postupiti u saobraćajnoj situaciji kao na slici?
(više tačnih odgovora)

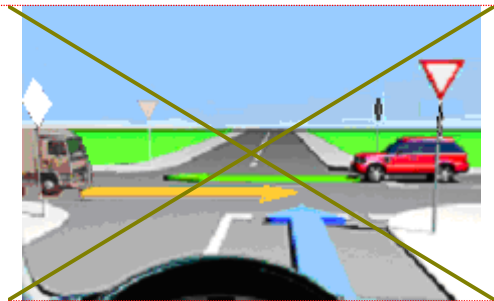
- 1 propustiti pješake koji prelaze preko pješačkog prelaza;
- 2 proći prije pješaka;
- 3 propustiti tramvaj koji dolazi iz suprotnog smjera.



108

Kako ćete postupiti na raskrsnici u saobraćajnoj situaciji kao na slici?

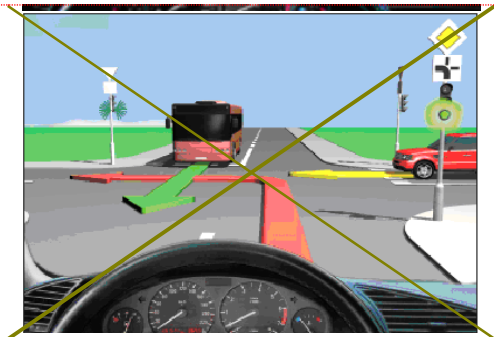
- 1 proći prvi kroz raskrsnicu;
- 2 propustiti oba vozila;
- 3 propustiti samo crveno vozilo.



109

Kako ćete postupiti na raskrsnici u saobraćajnoj situaciji kao na slici?

- 1 propustiti autobus;
- 2 proći kroz raskrsnicu prije autobusa.



110

Kako ćete postupiti u saobraćajnoj situaciji kao na slici ako je na semaforu upaljeno crveno svjetlo i dopunska strelica za skretanje udesno? (više tačnih odgovora)

- 1 propustiti crveno vozilo koje dolazi sa lijeve strane;
- 2 proći kroz raskrsnicu prije crvenog vozila;
- 3 izvršiću radnju skretanja udesno nakon crvenog vozila.

